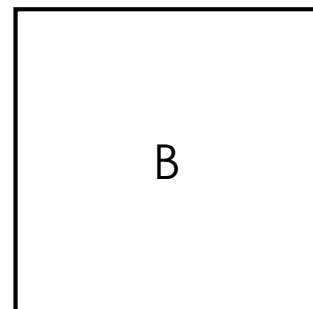



Le périmètre rectangle - carré



écriv les formules des périmètres du carré et du rectangle.

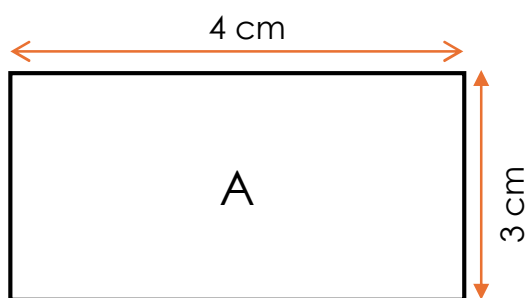


A → Périmètre du _____ = _____

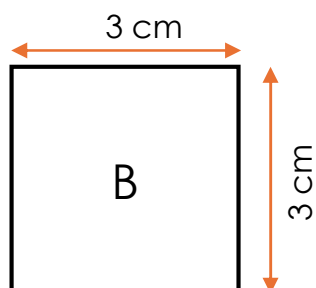
B → Périmètre du _____ = _____

$1 + 2 =$
 $6 \times 5 =$
 $8 - 5 =$

Calcule les périmètres du carré et du rectangle.



P = _____



P = _____