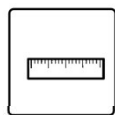
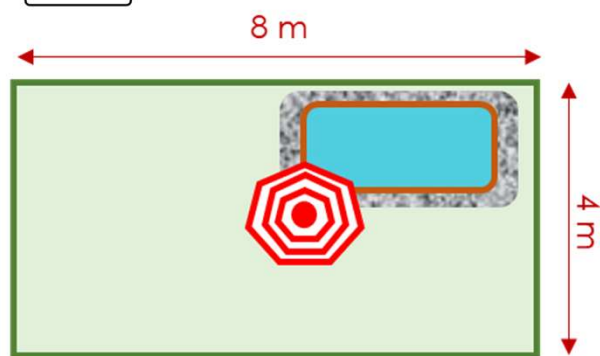


## Périmètre : carré & rectangle



**Mesure** les périmètres.



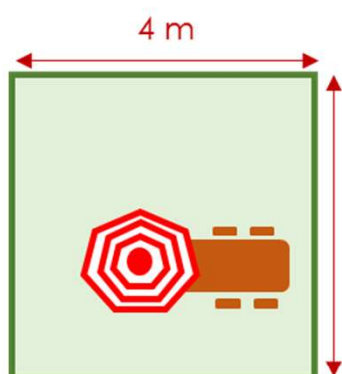
$$(l + L) \times 2$$

Pour mon jardin, je dois acheter une nouvelle clôture. Le vendeur me demande les dimensions de mon jardin pour me conseiller la meilleure clôture.

Pour connaître la quantité nécessaire, je dois calculer le **périmètre** de mon jardin.

Je constate que mon jardin à la forme d'un .....

Le ..... Possède ..... côtés. Je vais maintenant pouvoir calculer le périmètre de ma forme. Je vais calculer le contour de mon jardin pour connaître son **périmètre**.



Dans notre ancienne maison, nous avons dans notre appartement un carré comme jardin

$$C \times 4$$

Je constate que mon jardin à la forme d'un .....

Le ..... Possède ..... côtés identiques. Je vais maintenant pouvoir calculer le périmètre de ma forme. Je vais calculer le contour de mon jardin pour connaître son **périmètre**.



Corrections

Le fichier **correction** est réservé au membre **ABO Pro** via notre site web.

Chemindesmaths.com

Dans votre espace **ABO Pro** retrouvez tous les documents en format :

- **PDF** (non modifiable).
- **Powerpoint** (version modifiable).

Une recherche avancée pour trouver le document selon vos besoins.

• Filtrer par **Matières**.

- Toutes les matières travaillées.

• Filtrer par **Type de Document**.

- **Exercices** : le document est composé d'un ou plusieurs exercice(s).
- **Corrigés** : le corrigé est disponible pour le document ou le dossier.
- **Dossier** : si vous cherchez un dossier sur un thème précis (exemple : les tables de multiplication).
- **Synthèse** : si le document comprend une synthèse.
- **Jeu** : une matière que nous avons adaptée pour en faire un jeu.

• Filtrer par **Année**.

- sélectionnez l'année de votre recherche de 1P à 6P.