

# Le chiffre quatre.



**Recopie** le chiffre 4 (quatre).

4 4 4 4 4 4 4 4 4



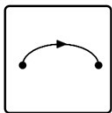
4 4 4 4 4 4 4 4 4

4 4 4 4 4 4 4 4 4

4 4 4 4 4 4 4 4 4



**Colorie** le 4.



**Relie** le bon cadeau.



a      b      c      d  
1      2      3      4



# Le chiffre quatre.

1 + 2 =  
6 x 5 =  
8 - 5 =

**Effectue** les opérations jusqu'à 4.





**Colorie** la bonne réponse.

$0 + \dots = 4$

$3 + \dots = 4$

$\dots + 2 = 4$

$1 + \dots = 4$



	+		<b>2</b>
			<b>4</b>
			<b>3</b>




**Dessine** pour faire 4 (quatre).



**Complète** la maison de quatre.


	+		4
	+		4



	4
	3
	2
	1



**Colorie** 4 cibles (quatre).





## Corrections

Le fichier **correction** est réservé au membre **ABO Pro** via notre site web.

Chemindesmaths.com

